


班別:P. 4S 姓名:李思睿 (10)

日期:1-12-2020


主題：探究水世界（節儉）

一. 日常生活中，除了我們肉眼所見的用水量，還有些是隱藏的「虛擬水」，例如生產食物及商品時所用水。試找出生產牛肉時會用到的「虛擬水」，並在橫線上填上正確的英文字母。




(1)

a. 牛喝的水



(2)

b. 種植飼料用到的水




(3)

c. 清洗牧場用到的水

(1) c (2) b (3) a

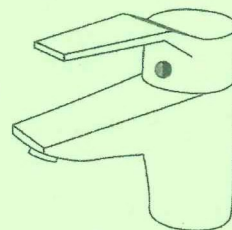
每生產 1 公斤牛肉，便要用到 15,455 公升的水，相當於一個貨櫃的容量。



二. 家居中不少用水裝置和器具（例如：洗衣機、沖廁水箱、沐浴花灑水龍頭）都具有節水設計，試找出較省水的裝置或器具。



A. 按壓式水龍頭



B. 槓桿式水龍頭

1. (A / B) 較省水，因為開水龍頭時 (能夠 / 不能夠) 控制水的流量。

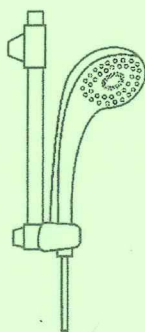


A. 雙掣式水廁

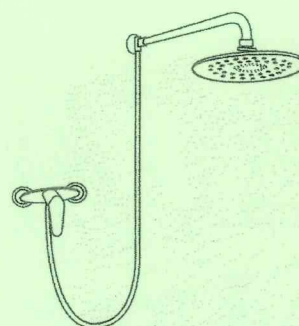


B. 單掣式水廁

2. (A / B) 較省水，因為 (能夠 / 不能夠) 選擇合適的沖水量。



A. 手把式小型花灑



B. 頂噴式大型花灑

3. (A / B) 較省水，因為洗澡時 (會 / 不會) 使用過多的水流量。

試想想：

你會選擇以上哪些用水裝置和器具呢？請在課堂上跟老師和同學分享。